

## КИМ по теме «Формирование Древнерусского государства»

1. В 9-10 вв. происходит процесс

- А) развития кочевого скотоводства у восточных славян
- Б) зарождение государственности у восточных славян
- В) расцвета рабовладения у восточных славян
- Г) упадка культуры у восточных славян

2. Укажите центры крупнейших восточнославянских объединений 9в. Найдите в приведенном списке названия 2 городов.

- А) Новгород
- Б) Москва
- В) Царьград
- Г) Киев
- Д) Ярославль

3. Соотнесите название племени и их центры

- А) Киев
- Б) Чернигов
- В) Смоленск и Полоцк
- Г) Любеч
- Д) Новгород
- а) родимичи
- б) поляне
- в) ильменские словене
- г) северяне
- д) кривичи

4. Княжеское войско в древней Руси называлось

- А) вече
- Б) дружина
- В) вервь
- Г) гвардия

5. В каком году, согласно летописному преданию, в Новгород были приглашены варяжские князья?

- А) 862 г.
- Б) 882 г.
- В) 962 г.
- Г) 988 г.

6. Что явилось одной из причин образования Древнерусского государства?

- А) необходимость организации обороны от внешних врагов
- Б) принятие Русью христианства
- В) необходимость масштабных общественных работ
- Г) столкновение между финно-уграми и славянами в процессе колонизации

7. Что из перечисленного согласно летописи, стало одной из причин призвания варяжских князей в IX в.?

- А) разгром Русью Хазарского каганата
- Б) неудачная война Руси с Византией
- В) набеги половцев на Русь
- Г) межплеменные убоицы на севере Руси

8. К IX в. относится

- А) образование Древнерусского государства с центром в Киеве
- Б) начало раздробленности Руси
- В) нашествие войск хана Батыя на русские земли
- Г) начало объединения русских земель вокруг Москвы

9. Что из перечисленного стало одной из причин призвания варяжских князей в IX в.?

- А) межплеменные убоицы на севере Руси
- Б) неудачная война Руси с Византией
- В) набеги печенегов на Русь
- Г) поход Руси на Хазарию

10. В Древнерусском государстве сбор дани князем с подвластных племён назывался

- А) полюдье
- Б) оброк
- В) барщина
- Г) выкуп

11. Ниже приведён перечень терминов. Все они, за исключением одного, характеризуют общественный строй восточных славян накануне образования Древнерусского государства.

- А) вервь
- Б) вече
- В) союзы племен
- Г) народное ополчение
- Д) уроки

12. Прочтите отрывок из «Повести временных лет». Укажите историческое событие и век, к которому относятся описанные в летописи события.

«И пошли за море к варягам, к руси. Те варяги назывались русью, как другие называются шведы, а иные – норманны и англы, а ещё иные – готландцы, – вот так и эти. Сказали руси

чудь, словене, кривичи и весь: "Земля наша велика и обильна, а порядка в ней нет. Приходите княжить и владеть нами". И избрались трое братьев со своими родами, и взяли с собой всю русь, и пришли, и сел старший, Рюрик, в Новгороде, а другой, Синеус, – на Белоозере, а третий, Трувор, – в Изборске».

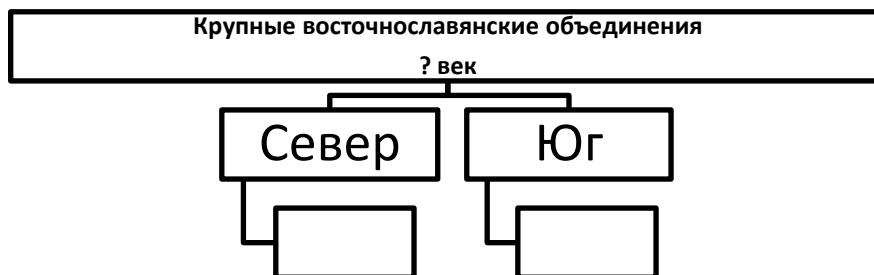
А) VIII в.                      Б) IX в.                      В) X в.                      Г) XI в.

Историческое событие -

13. Как назывались в Древней Руси купцы, которые вели торговлю с заморскими странами?

А) закупы                      Б) гости                      В) бояре                      Г) рядовичи

14. Запишите, пропущенное в схеме.



15. Ниже приведён перечень городов. Все они, за исключением одного, входили в состав Древнерусского государства. Найдите и запишите номер, которым обозначен город, не входивший в состав Древнерусского государства.

А) Смоленск                      Б) Полоцк                      В) Тмутаракань                      Г) Тобольск                      Д) Переяславль

16. Запишите имя, пропущенное в схеме



17. Прочтите отрывок из летописи и укажите город, о котором идёт речь.

«И с этими всеми пошёл Олег на конях и кораблях; и было кораблей числом две тысячи. И пришёл... греки же замкнули Суд, а город затворили. И вышел Олег на берег, и начал воевать и разбили множество палат, и церкви пожгли. И повелел Олег своим воинам сделать колёса и поставить на колёса корабли. И с попутным ветром подняли они паруса и пошли по полю к городу. Греки же, увидя это, испугались и сказали через послов Олегу: «"Не губи города, дадим тебе дани, какой захочешь"».

А) Царьград                      Б) Киев                      В) Новгород                      Г) Корсунь

18. Прочтите отрывок из летописи и укажите год, когда произошло событие, о котором идёт речь.

«И с этими всеми пошёл на конях и в кораблях; и было кораблей числом 2000. И пришел к Царьграду: греки город затворили. И вышел ... на берег, и начал воевать, и много убийств сотворил в окрестностях города грекам, и разбили множество палат, и церкви пожгли. ...И повелел своим воинам сделать колёса и поставить на колёса корабли. И, когда подул попутный ветер, подняли они в поле паруса и пошли к городу. Греки же, увидев это, испугались и сказали: "Не губи города, дадим тебе дань, какую захочешь"».

А) 882 г.                      Б) 907 г.                      В) 941 г.                      Г) 1036 г.

19. «Повесть временных лет» сообщает о призвании на княжение варяжских князей, которое произошло в

- А) 862 г.                      Б) 882 г.                      В) 907 г.                      Г) 945 г.

20. Что из перечисленного относится к IX в.?

- А) заселение славянами Восточно-Европейской равнины  
Б) объединение Киева и Новгорода под властью князя Олега  
В) создание первого письменного свода законов Русская Правда  
Г) начало периода раздробленности русских земель

21. О ком идет речь

Новгородский, а затем киевский князь. Опекун и воспитатель сына Рюрика Олега. Прославился отвагой и военными победами, в том числе и над византийцами. За свои подвиги получил прозвище «Вещий», т.е. мудрый.

22. Расположите в хронологической последовательности следующие исторические события.

- А) поход Олега на Киев    Б) княжение Рюрика  
В) образование Киевской Руси                                      Г) княжение Олега

23. Ниже приведён перечень названий образовавшегося государства у восточных славян. Все они, за исключением одного, относятся к 9 веку. Найдите и запишите номер, которым обозначено название государства более позднего периода.

- А) Россия                                      Б) Древнерусское государство                                      В) Киевская Русь

24. О ком идет речь

Основатель русской княжеской династии. Прибыл к славянам по призыву новгородцев и стал княжить.

25. Укажите имя князя, ко времени правления которого, относится образование Древнерусского государства с центром в Киеве.

- А) Рюрик                                      Б) Олег                                      В) Дир                                      Г) Аскольд

26. Какой титул носил глава Древнерусского государства.

- А) воевода                                      Б) царь                                      В) киевский великий князь                                      Г) старейшина

27. Полюдье в Древней Руси – это

- А) сборник законов Древнерусского государства  
Б) объезд князем с дружиной своих земель в целях сбора дани  
В) владение младшего члена княжеского рода  
Г) денежный сбор с крестьян при уходе от землевладельца в Юрьев день

28. Назовите имя князя, ко времени правления которого, относится объединение Киева и Новгорода под единой княжеской властью.

- А) Рюрик                                      Б) Олег                                      В) Ярослав Мудрый                                      Г) Владимир Мономах

29. Прочтите отрывок из сочинения историка и назовите князя, о котором идёт речь.

«Сквозь красивый туман народного сказания историческая действительность становится видна лишь со времени новгородского князя, который, перейдя с Ильмена на Днепр, покорил Смоленск, Любеч и, основавшись в Киеве на житьё, сделал его столицей своего княжества, говоря, что Киев будет "матерью городов русских". Ему впервые удалось объединить в своих руках все главнейшие города по великому водному пути».

- А) Рюрик                                      Б) Олег                                      В) Игорь                                      Г) Святослав

30. Рассмотрите схему и выполните задание.



Назовите имя киевского князя, к деятельности которого относится успешный военный поход по маршруту, представленному на схеме.

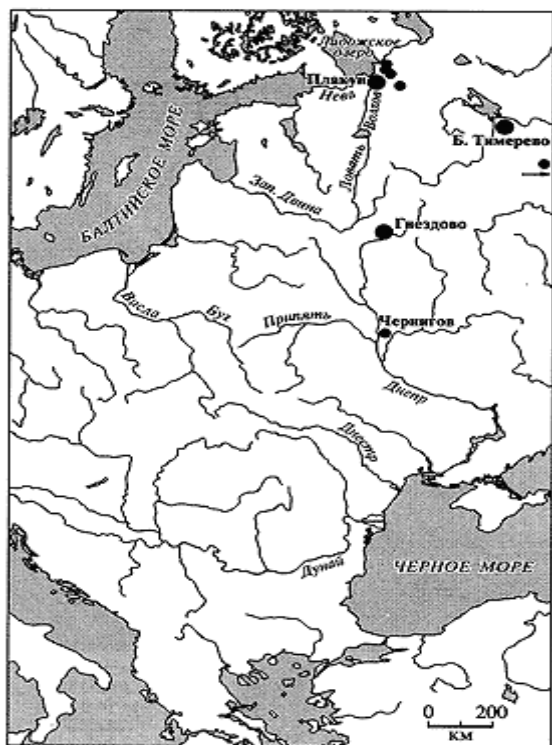
- А) Рюрик                      Б) Олег                      В) Мстислав Великий                      Г) Юрий Долгорукий

31. Запишите понятие, о котором идет речь

- А) Объезд киевским князем с дружиной своих земель для сбора дани  
 Б) Организация жизни, при которой существует единая система управления  
 В) Торговый путь, который соединял Балтийское и Черное моря

32. Рассмотрите карту и ответьте на вопросы.

- А) Как назывался торговый путь, который играл большую роль в жизни восточных славян?  
 Б) Напишите другое название Балтийского и Черного морей.  
 В) Назовите города восточных славян, через которые проходил этот торговый путь.  
 Г) Назовите конечный пункт этого торгового пути.  
 Д) Нанесите на карту этот торговый путь.



33. Рассмотрите схему и ответьте на вопрос. Какой цифрой на схеме обозначен племенной центр ильменских словен?

- А) 1                      Б) 2                      В) 3                      Г) 4



34. «Призвание первых князей имеет великое значение в нашей истории, есть событие всероссийское, и с него справедливо начинают русскую историю. Главное, начальное явление в основании государства – это соединение разрозненных племён чрез появление среди них сосредоточивающего начала, власти. Северные племена, славянские и финские, соединились и призвали к себе это сосредоточивающее начало, эту власть. Здесь, в сосредоточении нескольких северных племён, положено начало сосредоточению и всех остальных племён, потому что призванное начало пользуется силою первых сосредоточившихся племён, чтоб посредством их сосредоточивать и другие, соединённые впервые силы начинают действовать».



Задание:

- А) Под каким названием вошло в историю легендарное событие, описанное в отрывке?
- Б) Укажите год, когда оно произошло.
- В) Кто, согласно описанной в отрывке версии, явился родоначальником первой княжеской династии?
- Г) В чём автор видит значение призвания первых князей? Укажите не менее двух положений.

35. Вставьте пропущенные слова.

В 9 веке в жизни восточных славян все большее значение стала играть \_\_\_\_\_. Через заселенные ими земли проходил торговый путь \_\_\_\_\_. Среди славян стали появляться люди, главным занятием которых стали торговля, их называли \_\_\_\_\_. С развитием торговли стали появляться и города: \_\_\_\_\_ - у полян, Чернигов – у \_\_\_\_\_, \_\_\_\_\_ и \_\_\_\_\_ - у кривичей, Любеч – у \_\_\_\_\_, \_\_\_\_\_ - у ильменских словен. Занятие торговлей было делом опасным. Купеческие караваны грабили степные кочевники - \_\_\_\_\_. Для охраны своих судов и складов торговые люди нанимали вооруженных специальных людей - \_\_\_\_\_. Во главе дружины стоял военачальник - \_\_\_\_\_. Постепенно города подчиняли себе окрестные территории, так возникали \_\_\_\_\_. Государство у восточных славян складывается по причине завоевания их \_\_\_\_\_ и \_\_\_\_\_. На севере Европы, с Скандинавии жили племена \_\_\_\_\_. В \_\_\_\_\_ году над восточными славянами нависла угроза завоевания \_\_\_\_\_ племенами и они обратились к варягам. Это событие вошло в историю под названием \_\_\_\_\_. На приглашение откликнулись трое братьев. Старший брат \_\_\_\_\_ обосновался в городе \_\_\_\_\_, а затем построил новый город \_\_\_\_\_. Второй брат \_\_\_\_\_, стал княжить на \_\_\_\_\_, а \_\_\_\_\_ - в \_\_\_\_\_. В дружине варяжского князя были два брата \_\_\_\_\_ и \_\_\_\_\_, которые освободили \_\_\_\_\_ от хазарской зависимости и стали правителями \_\_\_\_\_. Умирая варяжский князь передал власть своему сыну \_\_\_\_\_, который по-своему малолетству находился на попечении \_\_\_\_\_.

36. Какое историческое событие отражают картинки.



38. Назовите историческую личность.

